



PRUEBA DE ACCESO A CICLOS FORMATIVOS

HEZIKETA ZIKLOETARA SARTZEKO PROBA

ABRIL 2018 / 2018KO APIRILA

GOI MAILAKO ZIKLOAK / CICLOS DE GRADO SUPERIOR

ATAL ESPEZIFIKOA / PARTE ESPECÍFICA

A

GEOGRAFIA/GEOGRAFÍA

Abizenak
Apellidos

Izena
Nombre

N.A.N.
D.N.I.

IKASLEAREN SINADURA
Firma del alumno/a

1. A) Koka itzazu hurrengo probintziak Espainiako mapa politikoan
(puntu 1).

1. Girona	2. Salamanca	3. Kantabria
4. Toledo	5. Sevilla	6. Soria
7. Zaragoza	8. Araba	9. Almería
10. Madril		



- B. Azaldu probintzia bakoitzari dagokion Autonomia Erkidegoa. (puntu 1)

PROBINTZIA	AUTONOMIA ERKIDEGOA
Lugo	
Cáceres	
Eivissa	
Cuenca	
Segovia	
Jaen	
Castelló	
Errioxa	
Palentzia	

1. A) Sitúa las siguientes provincias en el mapa político de España. (1 punto).

1. Girona	2. Salamanca	3. Cantabria
4. Toledo	5. Sevilla	6. Soria
7. Zaragoza	8. Álava	9. Almería
10. Madrid		



B. Señala a qué Comunidad Autónoma corresponde cada provincia. (1 punto)

PROVINCIA	COMUNIDAD AUTÓNOMA
Lugo	
Cáceres	
Eivissa	
Cuenca	
Segovia	
Jaén	
Castellón	
La Rioja	
Palencia	

2. A) Europa Batasuneko hamar herrialde mapan kokatu. Ondoren beheko koadroan herrialde hauen hiriburuak jarri. (2 puntu)



HERRIALDEA	HIRIBURUA	HERRIALDEA	HIRIBURUA
1.		6.	
2.		7.	
3.		8.	
4.		9.	
5.		10.	

2. A) Sitúa en el mapa diez países de la Unión Europea y completa con ellos el cuadro con sus respectivas capitales (2 puntos).

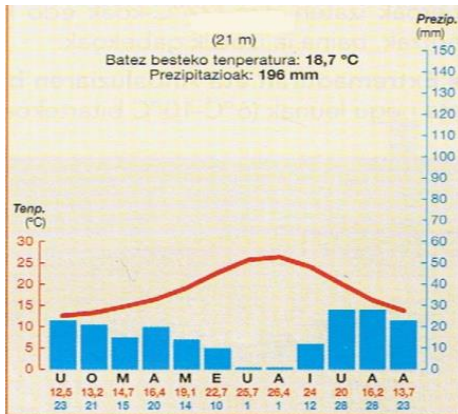


País	Capital	País	Capital
1.		6.	
2.		7.	
3.		8.	
4.		9.	
5.		10.	

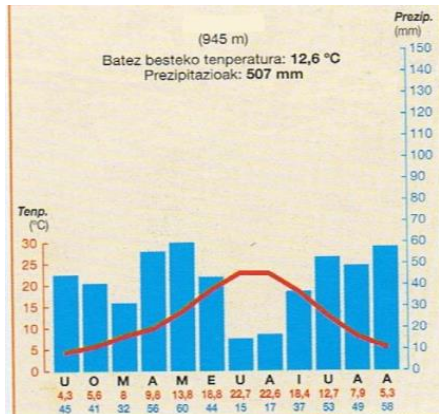


3. Azal ezazu klimograma hauetako bakoitza zer klima-motari dagokion. (1,5 puntu).

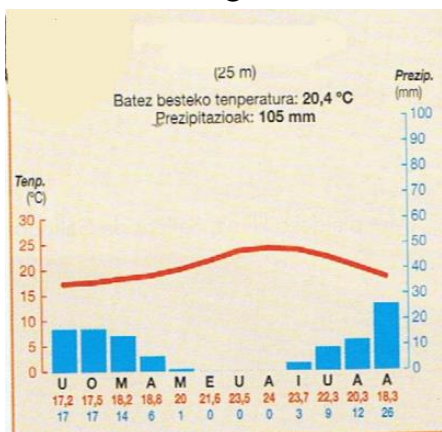
A



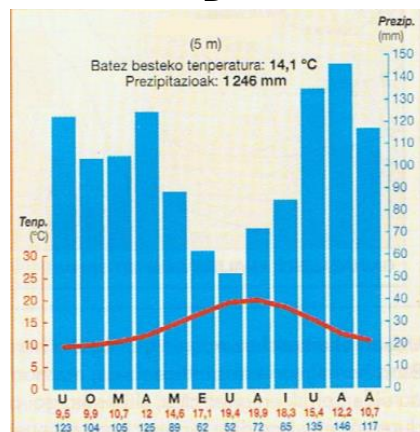
B



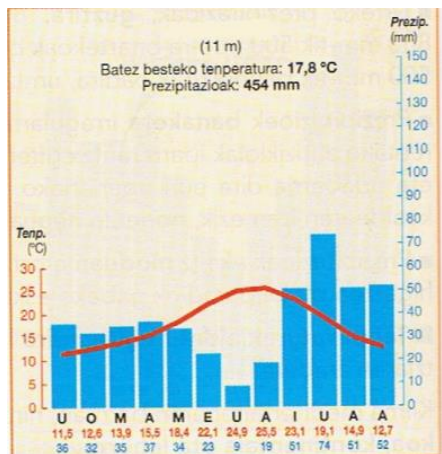
C



D



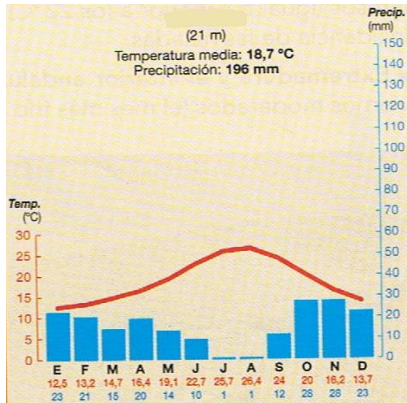
E



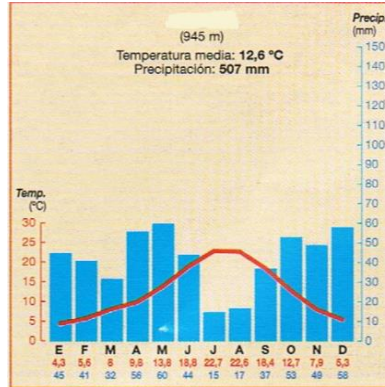


3. Señala qué tipo de clima corresponde a cada climograma. (1,5 puntos).

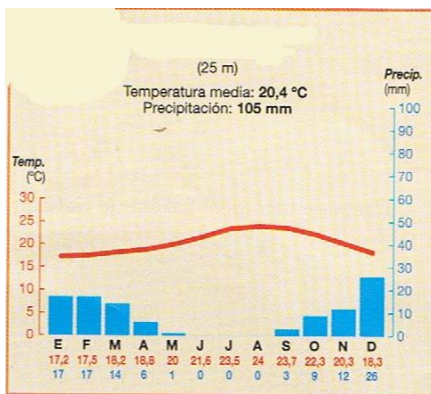
A



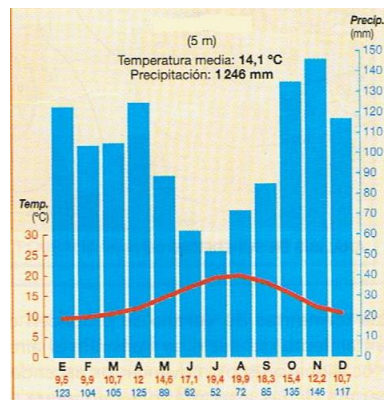
B



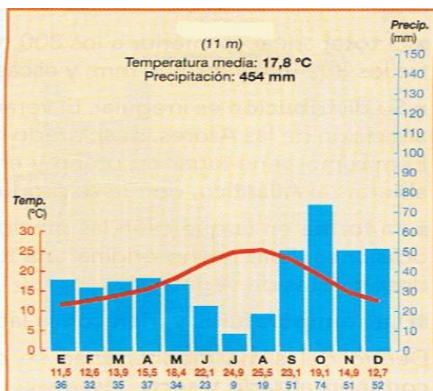
C



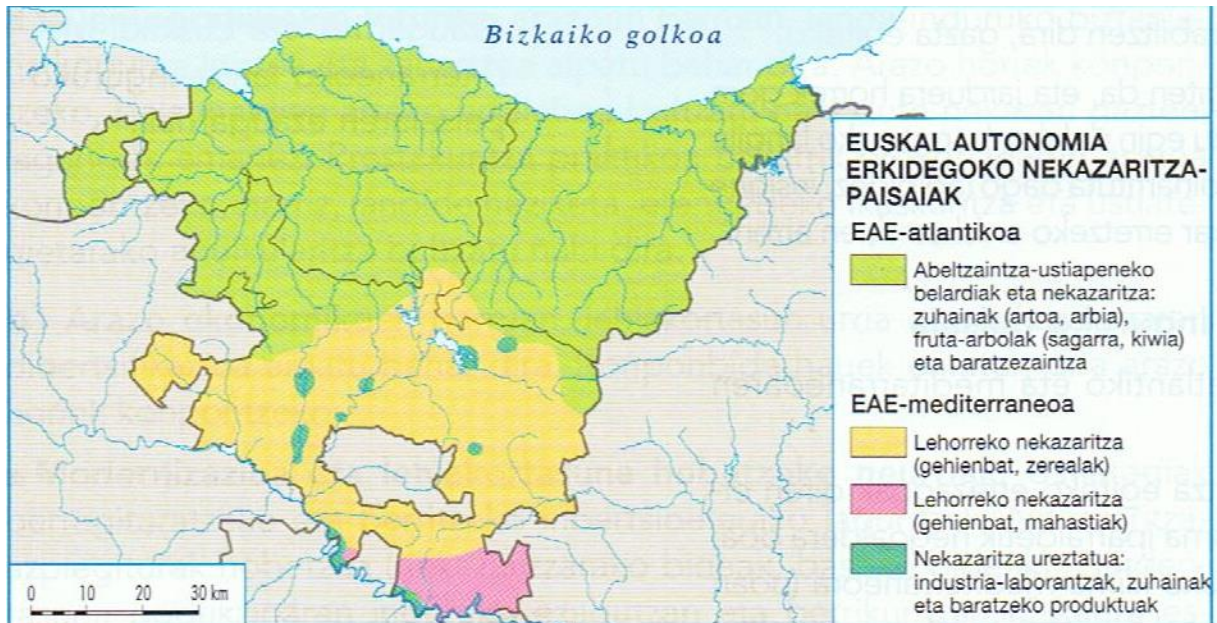
D



E



4. Azal itzazu Euskal Autonomia Erkidegoko nekazaritza- paisaiak (1,5 puntu).



4. Explica los paisajes agrarios de la Comunidad Autónoma Vasca (1,5 puntos)





5. Azal ezazu kontzeptu hauen esanahia. (2 puntu)

➤ **Modelatu karstikoa:**

➤ **Biztanleria aktiboa:**

➤ **Tertziarizazioa:**

➤ **Hiriko Zabalgunea:**

5. Explica los siguientes conceptos. (2 puntos)

➤ **Modelado Cárstico:**

➤ **Población activa:**

➤ **Terciarización:**

➤ **Ensanche urbano:**

6. Hurrengo mapan zenbaki bakoitzari dagokion ibaien eta mendikateen izena jar ezazu. (puntu 1).



1.
2.
3.
4.
5.

6.
7.
8.
9.
10.

6. Escribe los ríos y los sistemas montañosos que corresponden a cada número señalado en el mapa. (1 punto).

